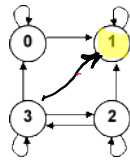
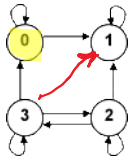
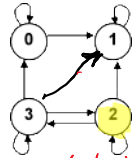


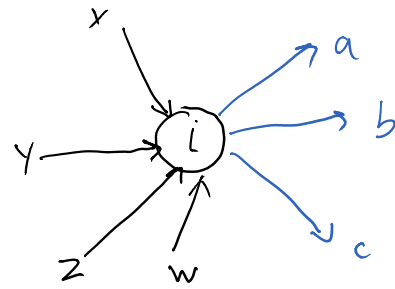
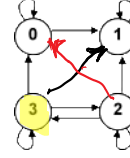
Να βρεθεί η μεταβατική κλειστότητα για το κάτωθι γράφημα



κακή αλυσίδα



κακή αλυσίδα



Εξετάσουμε τις εισερχόμενες με αυτόματη την ονόματος. Για κάθε εισερχόμενη, ελέγχουμε όλες τις εξερχόμενες κατά αυτόματη την ονόματος, μήπως δεν υπάρχει η σύνδεση